

No part of this product may be reproduced in any form or by any electronic or mechanical means, including information storage and retrieval systems, without written permission from the IB.

Additionally, the license tied with this product prohibits commercial use of any selected files or extracts from this product. Use by third parties, including but not limited to publishers, private teachers, tutoring or study services, preparatory schools, vendors operating curriculum mapping services or teacher resource digital platforms and app developers, is not permitted and is subject to the IB's prior written consent via a license. More information on how to request a license can be obtained from <http://www.ibo.org/contact-the-ib/media-inquiries/for-publishers/guidance-for-third-party-publishers-and-providers/how-to-apply-for-a-license>.

Aucune partie de ce produit ne peut être reproduite sous quelque forme ni par quelque moyen que ce soit, électronique ou mécanique, y compris des systèmes de stockage et de récupération d'informations, sans l'autorisation écrite de l'IB.

De plus, la licence associée à ce produit interdit toute utilisation commerciale de tout fichier ou extrait sélectionné dans ce produit. L'utilisation par des tiers, y compris, sans toutefois s'y limiter, des éditeurs, des professeurs particuliers, des services de tutorat ou d'aide aux études, des établissements de préparation à l'enseignement supérieur, des fournisseurs de services de planification des programmes d'études, des gestionnaires de plateformes pédagogiques en ligne, et des développeurs d'applications, n'est pas autorisée et est soumise au consentement écrit préalable de l'IB par l'intermédiaire d'une licence. Pour plus d'informations sur la procédure à suivre pour demander une licence, rendez-vous à l'adresse <http://www.ibo.org/fr/contact-the-ib/media-inquiries/for-publishers/guidance-for-third-party-publishers-and-providers/how-to-apply-for-a-license>.

No se podrá reproducir ninguna parte de este producto de ninguna forma ni por ningún medio electrónico o mecánico, incluidos los sistemas de almacenamiento y recuperación de información, sin que medie la autorización escrita del IB.

Además, la licencia vinculada a este producto prohíbe el uso con fines comerciales de todo archivo o fragmento seleccionado de este producto. El uso por parte de terceros —lo que incluye, a título enunciativo, editoriales, profesores particulares, servicios de apoyo académico o ayuda para el estudio, colegios preparatorios, desarrolladores de aplicaciones y entidades que presten servicios de planificación curricular u ofrezcan recursos para docentes mediante plataformas digitales— no está permitido y estará sujeto al otorgamiento previo de una licencia escrita por parte del IB. En este enlace encontrará más información sobre cómo solicitar una licencia: <http://www.ibo.org/es/contact-the-ib/media-inquiries/for-publishers/guidance-for-third-party-publishers-and-providers/how-to-apply-for-a-license>.

**Estudios Matemáticos**  
**Nivel Medio**  
**Prueba 2**

Martes 19 de noviembre de 2019 (mañana)

1 hora 30 minutos

---

**Instrucciones para los alumnos**

- No abra esta prueba hasta que se lo autoricen.
- En esta prueba es necesario usar una calculadora de pantalla gráfica.
- Para esta prueba, se necesita una copia sin anotaciones del **cuadernillo de fórmulas de Estudios Matemáticos NM**.
- Conteste todas las preguntas en el cuadernillo de respuestas provisto.
- Salvo que se indique lo contrario en la pregunta, todas las respuestas numéricas deberán darse como valores exactos o con una aproximación de tres cifras significativas.
- La puntuación máxima para esta prueba de examen es **[90 puntos]**.

Conteste **todas** las preguntas en el cuadernillo de respuestas provisto. Empiece una página nueva para cada respuesta. Se recomienda que muestre todos los cálculos, siempre que sea posible. Cuando la respuesta sea incorrecta, podrán otorgarse algunos puntos si el método empleado es correcto, siempre que aparezca por escrito. Para los resultados obtenidos con calculadora de pantalla gráfica, deberá reflejarse por escrito el proceso seguido hasta su obtención. Por ejemplo, cuando deba utilizar un gráfico de una calculadora de pantalla gráfica para hallar soluciones, deberá dibujarlo aproximadamente en su respuesta.

1. [Puntuación máxima: 15]

El restaurante Casanova tiene un menú del día en el que el cliente elige **uno** de los siguientes platos: pasta, pescado o marisco.

El encargado hizo una encuesta a 150 clientes y fue anotando la edad del cliente y el plato que había elegido. Los datos se muestran en la siguiente tabla.

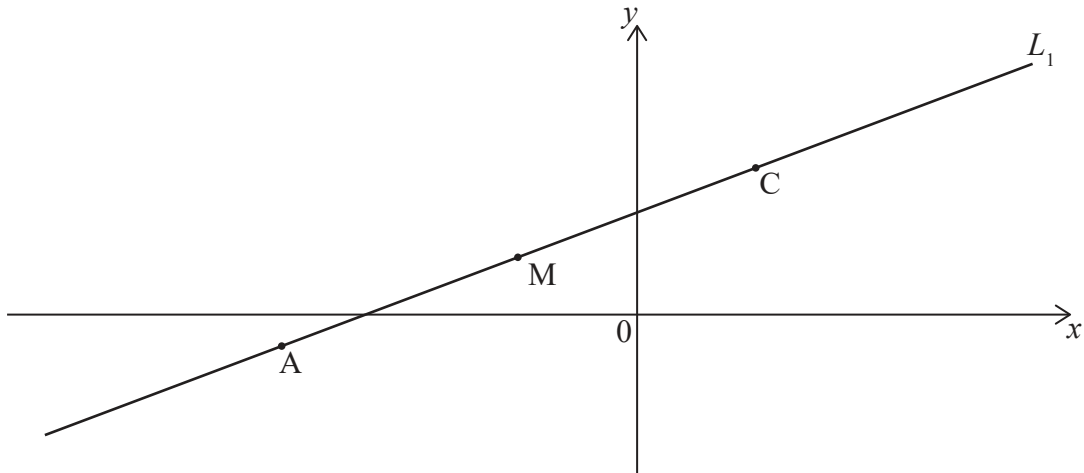
	Pasta	Pescado	Marisco	Total
Adultos	24	25	32	81
Niños	20	14	35	69
Total	44	39	67	150

Se realizó una prueba  $\chi^2$  a un nivel de significación del 10%. El valor crítico para esta prueba es 4,605.

- (a) Indique cuál es la hipótesis nula,  $H_0$ , para esta prueba. [1]
- (b) Escriba el número de grados de libertad. [1]
- (c) Muestre que el número esperado de niños que eligieron marisco es 31, redondeando a dos cifras significativas. [2]
- (d) Escriba
  - (i) El estadístico  $\chi^2$ ;
  - (ii) El valor del parámetro  $p$ . [3]
- (e) Indique la conclusión que se puede extraer de esta prueba. Dé una razón que justifique su respuesta. [2]
- (f) Se escoge un cliente al azar.
  - (i) Calcule la probabilidad de que el cliente sea un adulto.
  - (ii) Calcule la probabilidad de que el cliente sea un adulto o de que el cliente haya elegido marisco.
  - (iii) Sabiendo que el cliente es un niño, calcule la probabilidad de que haya elegido pasta o pescado. [6]

2. [Puntuación máxima: 13]

La siguiente figura muestra la recta  $L_1$ . Los puntos  $A(-9, -1)$ ,  $M(-3, 2)$  y  $C$  pertenecen a  $L_1$ .



(a) Halle la pendiente de  $L_1$ . [2]

$M$  es el punto medio de  $AC$ .

(b) Halle las coordenadas del punto  $C$ . [2]

La recta  $L_2$  es perpendicular a  $L_1$  y pasa por el punto  $M$ .

(c) Halle la ecuación de  $L_2$ . Dé la respuesta en la forma  $ax + by + d = 0$ , donde  $a, b, d \in \mathbb{Z}$ . [3]

El punto  $N(k, 4)$  pertenece a  $L_2$ .

(d) Halle el valor de  $k$ . [2]

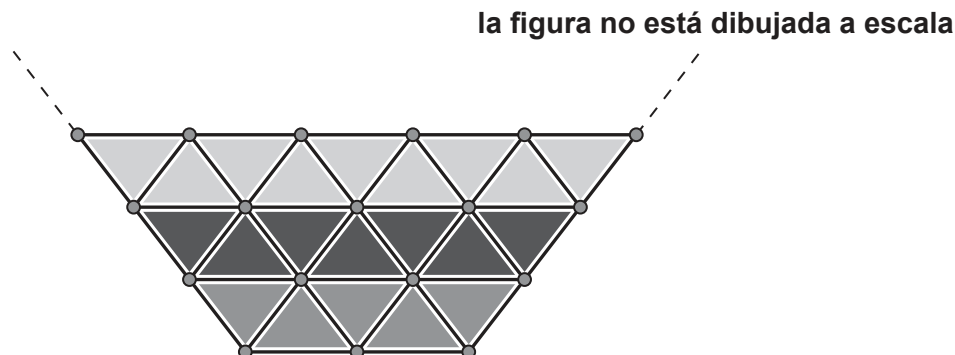
(e) Halle la distancia que hay entre los puntos  $M$  y  $N$ . [2]

(f) Sabiendo que la longitud de  $AM$  es  $\sqrt{45}$ , halle el área del triángulo  $ANC$ . [2]

Véase al dorso

3. [Puntuación máxima: 15]

Maegan diseña una vidriera decorativa para la fachada de un nuevo Centro de Bellas Artes. La vidriera está hecha de pequeños paneles triangulares. Los tres **primeros** niveles de la vidriera se muestran en la siguiente figura.



El 1.<sup>er</sup> nivel —el de la parte inferior de la vidriera— consta de 5 paneles triangulares. En el 2.<sup>o</sup> nivel hay 7 paneles triangulares y en el 3.<sup>er</sup> nivel hay 9 paneles triangulares. Cada nivel adicional tiene 2 paneles triangulares más que el nivel que está debajo de él.

(a) Halle el número de paneles triangulares que habrá en el 12.<sup>o</sup> nivel. [3]

(b) Muestre que el número total de paneles triangulares,  $S_n$ , que hay en los primeros  $n$  niveles viene dado por:

$$S_n = n^2 + 4n. \quad [3]$$

(c) **A partir de lo anterior**, halle el número total de paneles que habrá en una vidriera de 18 niveles. [2]

Maegan tiene 1000 paneles triangulares para construir la vidriera y no quiere dejar incompleto ningún nivel.

(d) Halle el número máximo de niveles **completos** que podrá hacer Maegan. [3]

El área de cada panel triangular es igual a  $1,84\text{m}^2$ .

(e) Halle el área **total** que tendrá la vidriera si se construye con ese número máximo de niveles completos. Exprese el área que ha hallado redondeando al  $\text{m}^2$  más cercano. [4]

## 4. [Puntuación máxima: 16]

El gráfico de la función cuadrática  $f(x) = \frac{1}{2}(x-2)(x+8)$  corta al eje  $y$  en  $(0, c)$ .

(a) Halle el valor de  $c$ . [2]

El vértice de la función es  $(-3; -12,5)$ .

(b) Escriba la ecuación del eje de simetría del gráfico. [2]

La ecuación  $f(x) = 12$  tiene dos soluciones. La primera solución es  $x = -10$ .

(c) **Utilice la simetría** del gráfico para mostrar que la segunda solución es  $x = 4$ . [1]

(d) Escriba las intersecciones con el eje  $x$  del gráfico. [2]

(e) En papel milimetrado, dibuje con precisión el gráfico de  $y = f(x)$  para  $-10 \leq x \leq 4$  y  $-14 \leq y \leq 14$ . Utilice una escala de 1 cm para representar 1 unidad en el eje  $x$  y 1 cm para representar 2 unidades en el eje  $y$ . [4]

Sea  $T$  la tangente en  $x = -3$ .

(f) (i) Escriba la ecuación de  $T$ .

(ii) En el mismo gráfico, dibuje con precisión la tangente  $T$ . [3]

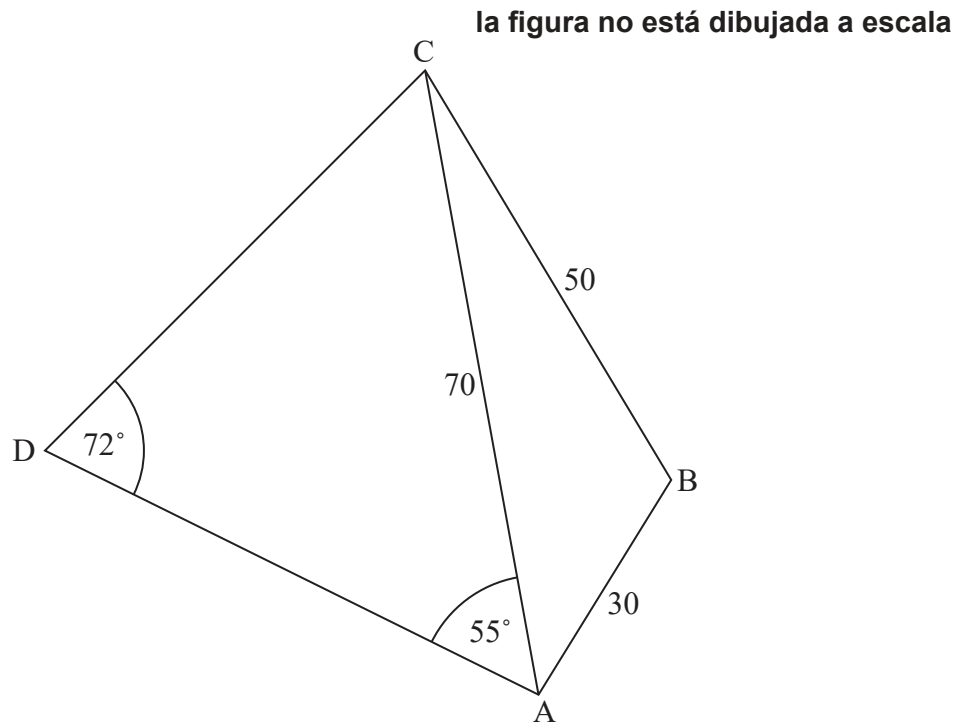
(g) Sabiendo que  $f(a) = 5,5$  y que  $f'(a) = -6$ , indique si la función  $f$  es creciente o decreciente en  $x = a$ . Dé una razón que justifique su respuesta. [2]

Véase al dorso

5. [Puntuación máxima: 15]

Haraya posee dos terrenos que tienen forma triangular:  $ABC$  y  $ACD$ .  $AB$  mide 30 m de longitud,  $BC$  mide 50 m y  $AC$  mide 70 m. El ángulo  $\hat{D}AC$  mide  $55^\circ$  y  $\hat{A}DC$  mide  $72^\circ$ .

La siguiente figura muestra toda esta información.



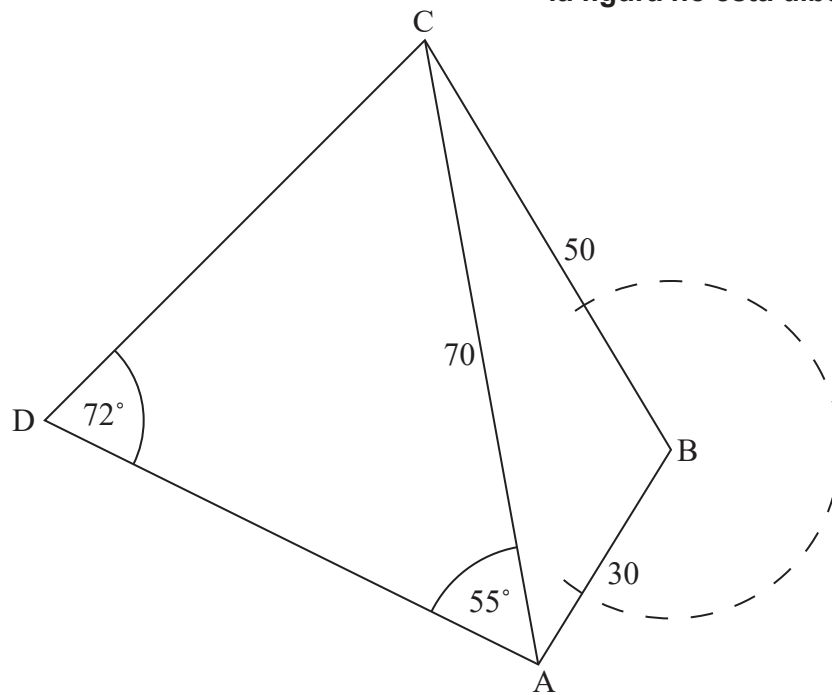
- (a) Halle la longitud de AD. [4]
- (b) Halle el valor de  $\hat{A}BC$ . [3]
- (c) Calcule el área del terreno triangular ABC. [3]

**(Esta pregunta continúa en la página siguiente)**

**(Pregunta 5: continuación)**

Haraya ata una cuerda de 20 m de largo a un poste vertical que se encuentra en el punto B.

**la figura no está dibujada a escala**



- (d) Determine si la cuerda llega hasta el interior del terreno triangular ACD. Justifique su respuesta.

[5]

Véase al dorso

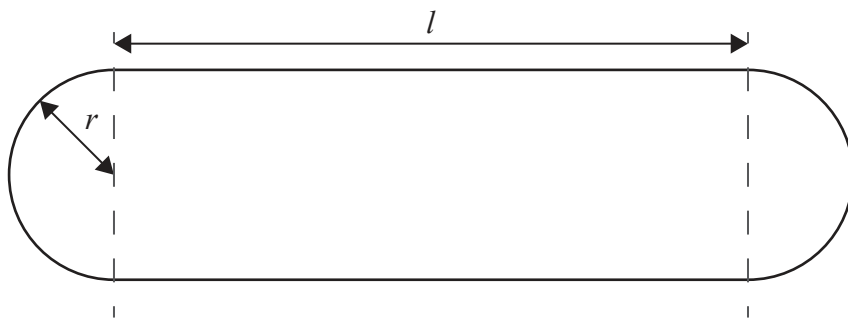


6. [Puntuación máxima: 16]

La empresa Maxwell Ohm Company está diseñando un altavoz Bluetooth portátil. El altavoz tiene forma de cilindro con una semiesfera en cada uno de los extremos del cilindro.



En la siguiente figura se muestran las dimensiones del altavoz en centímetros;  $r$  es el radio de la semiesfera y  $l$  es la longitud del cilindro, siendo  $r > 0$  y  $l \geq 0$ .



- (a) Escriba una expresión para  $V$ , el volumen del altavoz en  $\text{cm}^3$ , en función de  $r$ ,  $l$  y  $\pi$ . [2]

La empresa Maxwell Ohm Company ha decidido que el altavoz tendrá una superficie de  $300 \text{cm}^2$ .

- (b) Escriba una ecuación que permita calcular la superficie del altavoz en función de  $r$ ,  $l$  y  $\pi$ . [3]

- (c) Teniendo en cuenta que el diseño ha de cumplir que  $l = \frac{150 - 2\pi r^2}{\pi r}$ , muestre que  $V = 150r - \frac{2\pi r^3}{3}$ . [2]

- (d) Halle  $\frac{dV}{dr}$ . [2]

La calidad de sonido del altavoz mejora a medida que  $V$  aumenta.

- (e) Utilizando la respuesta que dio en el apartado (d), muestre que  $V$  es máximo cuando  $r$  es igual a  $\sqrt{\frac{75}{\pi}}$  cm. [2]

- (f) Halle la longitud del **cilindro** para la cual  $V$  es máximo. [2]

- (g) Calcule el valor máximo de  $V$ . [2]

- (h) Utilice la respuesta que dio en el apartado (f) para identificar la forma del altavoz con la que se obtiene la mejor calidad de sonido. [1]